

Meno: _____

Počítame do 100

- odčítanie jednociferného čísla s prechodom cez rákľad 10 - 1.

1. Vypočítaj. Pomôž si kreslením krúžkov (desiatky ○), čiarok (jednotky |) a ich prečiarkovaním.

$86 - 7 = \square$

$65 - 9 = \square$

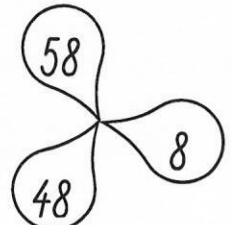
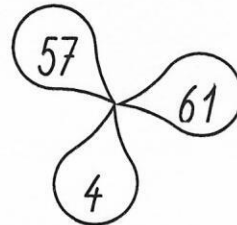
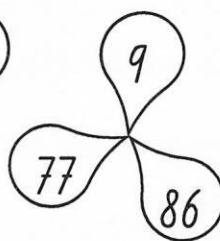
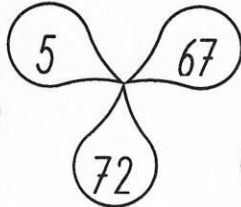
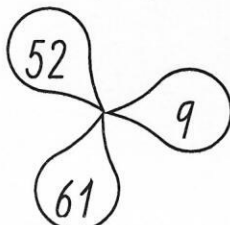
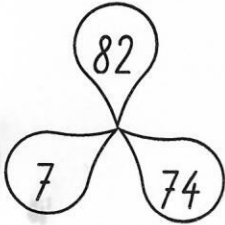
$44 - 6 = \square$

$33 - 8 = \square$

$72 - 5 = \square$

$51 - 4 = \square$

2. Odčítacie rodinky vyfarbi.



3. Vypočítaj.

$74 - 5 = \square$

$52 - 6 = \square$

$81 - 3 = \square$

$62 - 4 = \square$

$43 - 7 = \square$

$34 - 8 = \square$

$47 - 9 = \square$

$83 - 7 = \square$

$61 - 8 = \square$

$73 - 4 = \square$

$54 - 8 = \square$

$45 - 6 = \square$

$98 - 9 = \square$

$65 - 7 = \square$

$36 - 9 = \square$

$64 - 9 = \square$

4. Vypočítaj.

Dobrovoľníci vysadili 53 stromov. 9 stromov bolo ihličnatých a ostatné listnaté. Koľko listnatých stromov vysadili?

Stromov..... _____

Výpočet:

Ihličnatých..... _____

Listnatých..... _____

Dobrovoľníci vysadili _____ listnatých stromov.

5. Vypočítaj.

